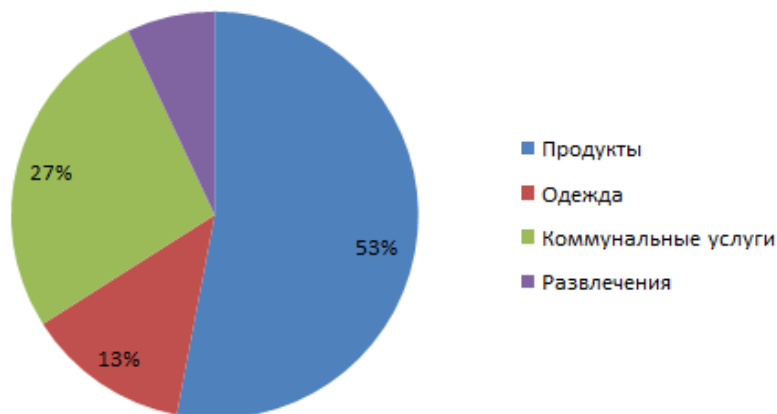


Подготовка к ВПР

Задание 6

21. Задание 6 № 189

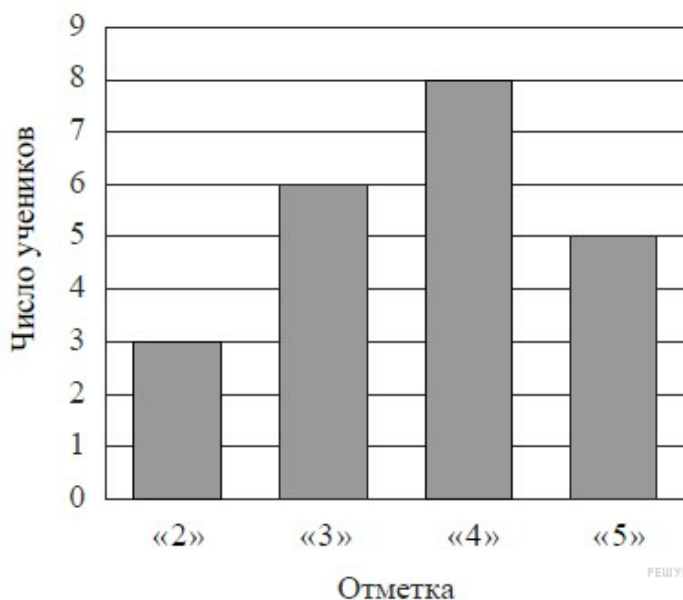
На диаграмме представлен отчет о тратах семьи за прошедший месяц. По данным диаграммы, определите, сколько рублей потратила семья на развлечения, если известно, что на одежду было истрачено 9750 рублей?



РЕШУЕГЭ.РФ

22. Задание 6 № 6

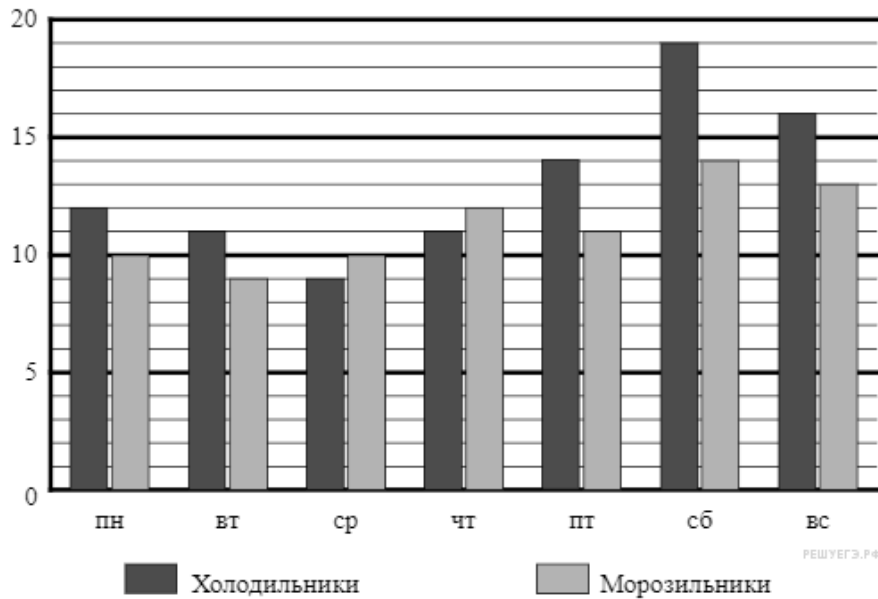
На диаграмме показаны результаты контрольной работы по математике в 6 «В» классе. По вертикальной оси указано число учеников. Сколько человек писали эту контрольную работу?



РЕШУЕГЭ.РФ

23. Задание 6 № 713

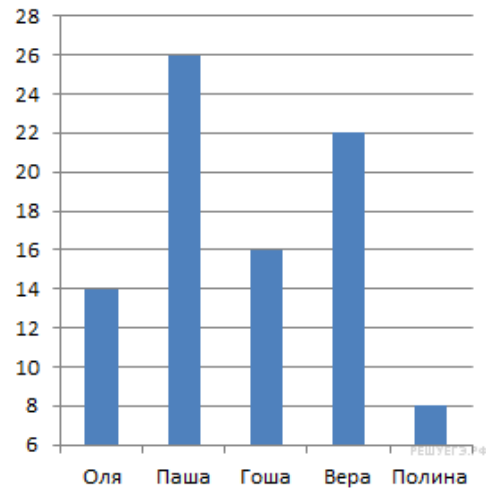
Магазин «Айсберг» продаёт холодильники и морозильники. На диаграмме показано, сколько холодильников и морозильников было продано за неделю в этом магазине. На вертикальной оси указано количество проданного товара, на горизонтальной — дни недели.



Определите, сколько всего морозильников продали в пятницу и субботу.

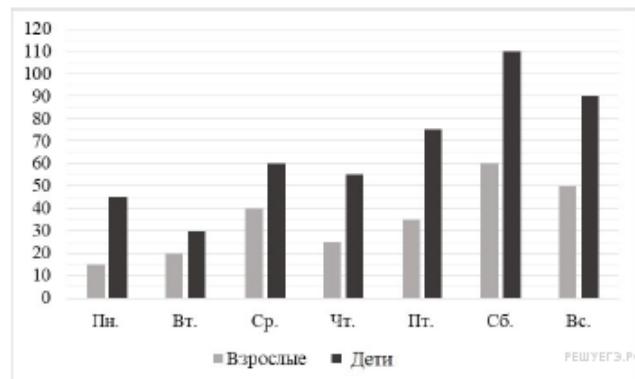
24. Задание 6 № 184

На диаграмме показано время, которые ребята тратят на дорогу от дома до школы. По вертикали указано время в минутах. Сколько ребят тратят на дорогу от 14 до 24 минут? В ответе укажите только число.



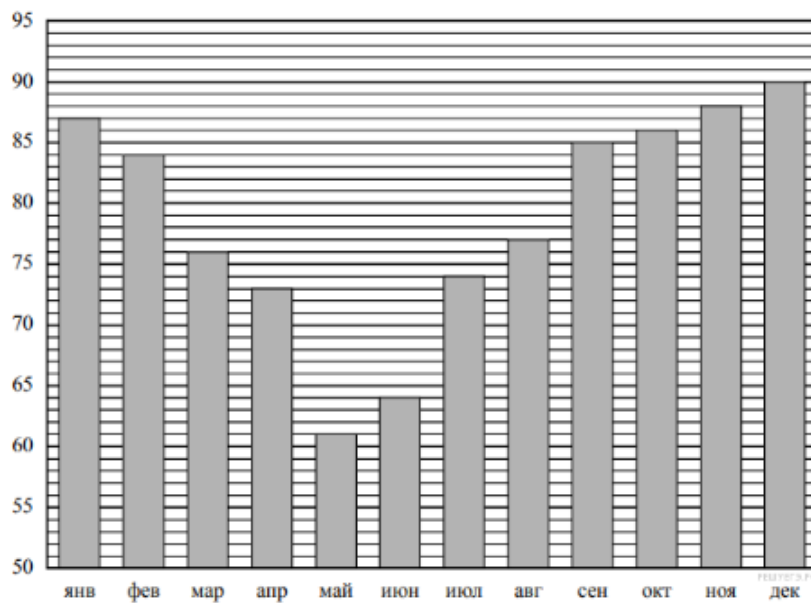
25. Задание 6 № 465

На диаграмме показано, сколько посетителей было в краеведческом музее в течение недели. Сколько детей побывало в музее в субботу и воскресенье в сумме?



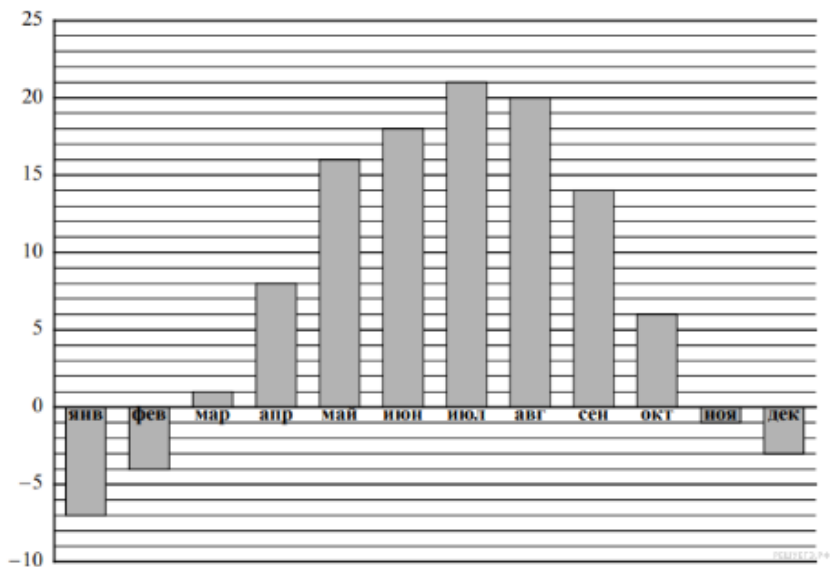
26. Задание 6 № 1847

На диаграмме показана средняя влажность воздуха в Петрозаводске в каждом месяце. По вертикали указана влажность воздуха в процентах, по горизонтали — месяцы. В каком месяце второго полугодия средняя влажность воздуха была самой низкой? В ответе укажите название месяца.



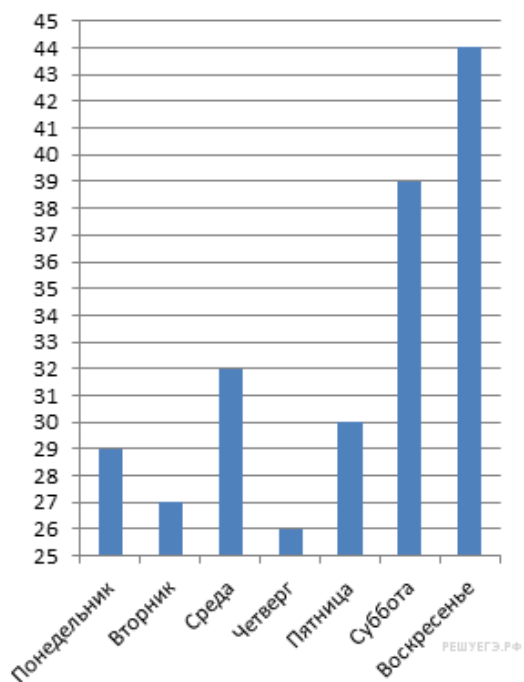
27. Задание 6 № 1952

На диаграмме показана средняя температура воздуха в Воронеже в каждом месяце. По вертикали указана температура воздуха в градусах Цельсия, по горизонтали — месяцы. В каком месяце первого полугодия средняя температура воздуха была самой высокой? В ответе укажите название месяца.



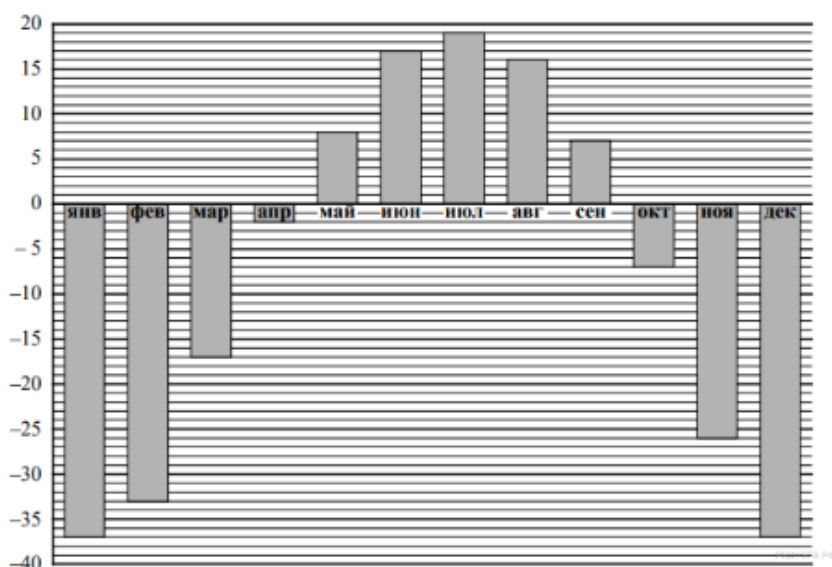
28. Задание 6 № 152

На диаграмме представлены данные о количестве посетителей шахматного клуба за неделю. По вертикали указано количество посетителей. Сколько человек посетило клуб в будние дни?



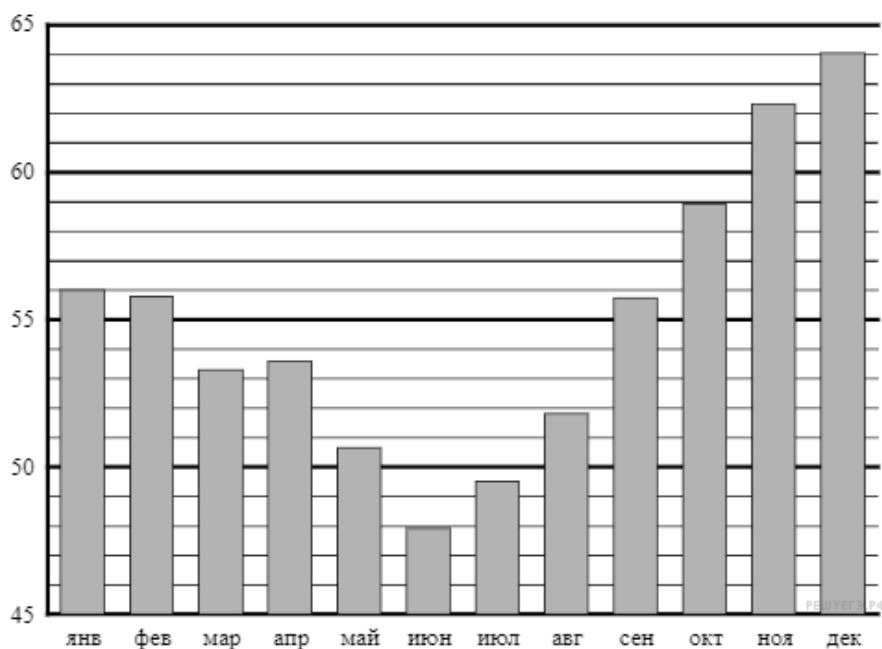
29. Задание 6 № 2064

На диаграмме показана средняя температура воздуха в Якутске в каждом месяце. По вертикали указана температура воздуха в градусах Цельсия, по горизонтали — месяцы. В каком месяце второго полугодия средняя температура воздуха была самой высокой? В ответе укажите название месяца.



30. Задание 6 № 660

На диаграмме показана средняя цена нефти в 2017 году по месяцам (в долларах США за 1 баррель).



Сколько в 2017 году было месяцев, когда средняя цена нефти превышала 52 доллара за баррель?